

**Proves d'accés a cicles formatius de grau mitjà de formació professional inicial,
d'ensenyaments d'arts plàstiques i disseny, i d'ensenyaments esportius 2015**

Competència social i ciutadana Sèrie 1

Dades de la persona aspirant

Cognoms i nom

DNI

Qualificació



1. Observeu el mapa físic d'Europa i relacioneu els números que hi apareixen amb els noms de rius proposats al costat. Escriviu el número corresponent dins les caselles.

[1 punt: 0,25 punts per cada apartat]



- el Sena
- l'Elba
- el Po
- l'Ebre

2. Observeu el mapa polític d'Espanya i relacioneu els números que hi apareixen amb els noms de comunitats autònomes proposats al costat. Escriviu el número corresponent dins les caselles.

[1 punt: 0,25 punts per cada apartat]



- Principat d'Astúries
- Andalusia
- Comunitat Valenciana
- La Rioja

3. Observeu el mapa físic de Catalunya i relacioneu els números que hi apareixen amb els noms de caps proposats al costat. Escriviu el número corresponent dins les caselles.

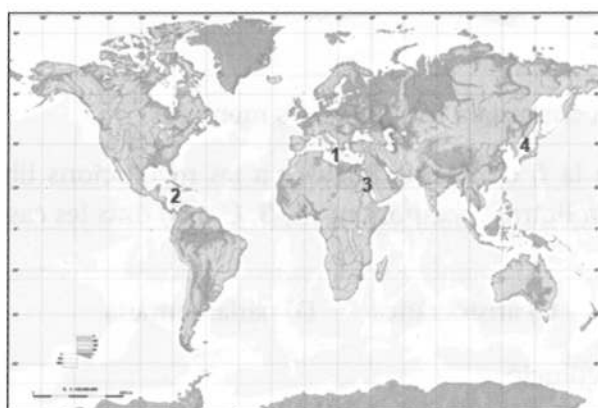
[1 punt: 0,25 punts per cada apartat]



- cap de Creus
- cap de Salou
- cap de Tortosa
- cap de Begur

4. Observeu el planisferi i relacioneu els números que hi apareixen amb els noms de mars proposats al costat. Escriviu el número corresponent dins les caselles.

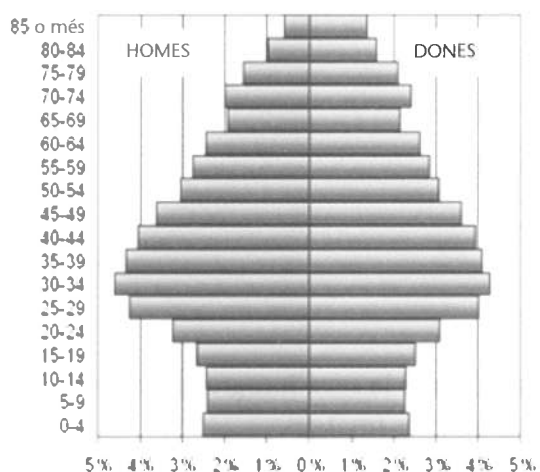
[1 punt: 0,25 punts per cada apartat]



- mar Roja
- mar del Japó
- mar Mediterrània
- mar Carib

5. Observeu la piràmide de població i indiqueu si les afirmacions proposades al costat, referents a l'anàlisi del gràfic, són vertaderes (V) o falses (F). Escriviu la lletra V o F dins les caselles.

[1 punt: 0,25 punts per cada apartat]




- La taxa de natalitat és molt alta.
- L'esperança de vida és molt baixa.
- L'esperança de vida de les dones és superior a la dels homes.
- És una piràmide regressiva.

6. Relacioneu el nom de cada tipus d'energia renovable amb la imatge que la il·lustra correctament. Escriviu la lletra corresponent (A, B, C o D) dins les caselles de sota les fotografies.

[1 punt: 0,25 punts per cada apartat]

- A) Energia hidràulica B) Energia geotèrmica C) Energia eòlica D) Energia solar



-
-
-
-

7. Indiqueu si les afirmacions següents, referents a la Unió Europea, són vertaderes (V) o falses (F). Escriviu la lletra V o F dins les caselles.

[1 punt: 0,25 punts per cada apartat]

- La població de la UE creix més per les migracions que pel creixement natural.
- Actualment la UE és integrada per vint-i-vuit països.
- El Regne Unit forma part de la zona euro.
- Existeix una constitució europea comuna a tots els estats membres.

8. Completeu les definicions relatives a la fi de l'Antic Règim i a les revolucions liberals amb els adjectius proposats. Escriviu la lletra corresponent (A, B, C o D) dins les caselles.

[1 punt: 0,25 punts per cada apartat]

A) burgesa B) absoluta C) aristocràtica D) parlamentària

- La Revolució Francesa és una revolució...
- El sistema polític característic de l'Antic Règim és la monarquia...
- El sistema polític característic de l'estat liberal és la república o la monarquia...
- La Revolució Francesa es va iniciar amb una revolta...

9. Ordeneu els fets històrics següents de més antic (1) a més modern (4). Escriviu el número corresponent (1, 2, 3 o 4) dins les caselles.

[1 punt: 0,25 punts per cada apartat]

- Imperialisme colonial
- Revolució Industrial
- Segona Guerra Mundial
- Nazisme

10. Relacioneu el nom de cada dirigent polític català amb la seva fotografia. Escriviu la lletra corresponent (A, B, C o D) dins les caselles de sota les imatges.

[1 punt: 0,25 punts per cada apartat]

A) David Fernández B) Joan Herrera C) Oriol Junqueras D) Artur Mas



-
-
-
-



Institut
d'Estudis
Catalans