



Generalitat de Catalunya  
Departament d'Educació  
**Direcció General de Formació Professional  
i Educació Permanent**

## **CONVOCATÒRIA ORDINÀRIA**

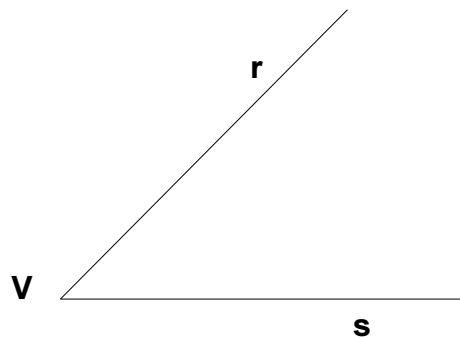
**Proves d'accés a Cicles Formatius de Grau  
Mitjà 2005**

**Educació visual i plàstica**

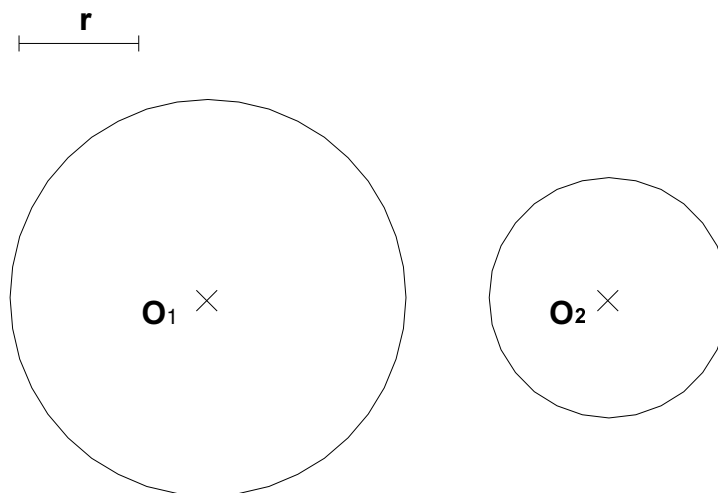


**PROVA D'ACCÉS A CICLES FORMATIUS DE GRAU MITJÀ.**  
**Educació visual i plàstica**  
**Convocatòria ordinària. 2005.**

**1.- Representeu gràficament amb els estris de dibuix la bisectriu de l'angle donat.**  
**2 punts**



**2.- Representeu gràficament amb els estris de dibuix una circumferència de radi  $r$ , tangent exterior a dues circumferències donades.**  
**3 punts**





**3.- Aquesta imatge té una funció:**  
1 punt



- a) Abstracta
- b) Connotativa
- c) Estètica
- d) Informativa

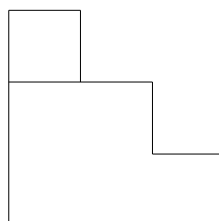
**4.- Quins són els colors pigments primaris.**  
1 punt

- a) Cian, verd, i violeta
- b) Groc, magenta i cian
- c) Verd, violeta i vermell
- d) Vermell, groc i magenta

**5.- La saturació d'un color es pot dir que és.**  
1 punt

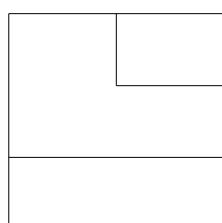
- a) El color càlid en una composició
- b) El color fred en una composició
- c) El grau de puresa
- d) La textura geomètrica

**6.- Determina la vista que falta per traçar en aquesta peça.**  
2 punts



**Perfil**

**Alçat**



**Planta**