

CONVOCATÒRIA ORDINÀRIA

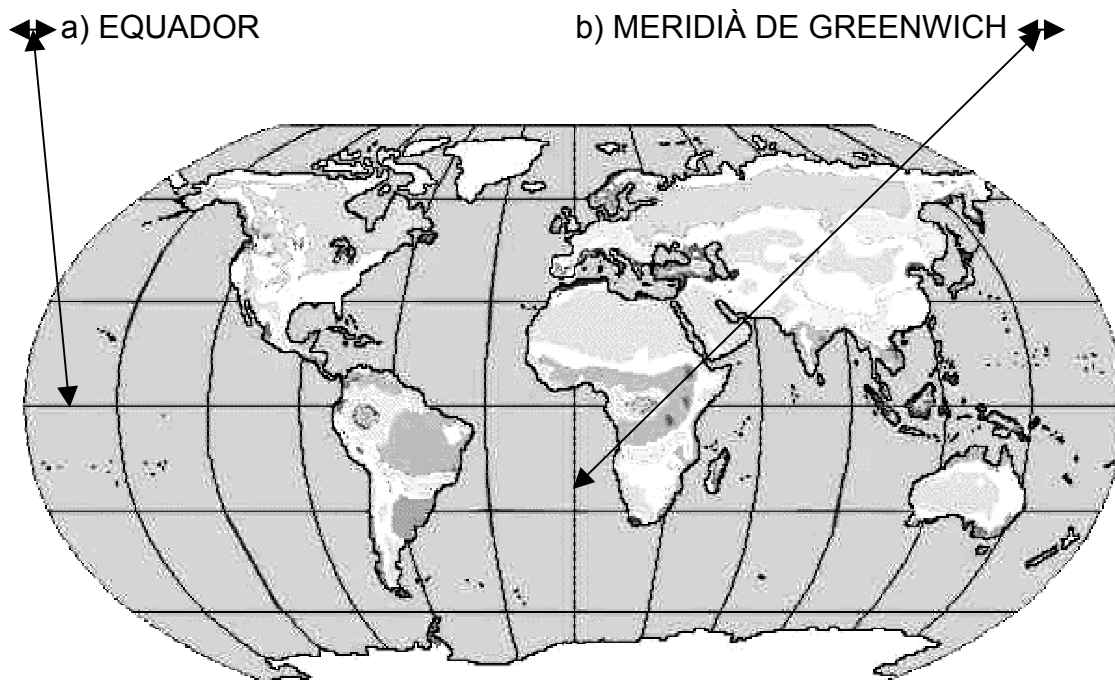
**Proves d'accés a Cicles Formatius de Grau
Mitjà 2004**

Ciències socials

SOLUCIONS

PROVA D'ACCÉS A CICLES FORMATIUS DE GRAU MITJÀ.
Ciències socials
Solucions
Convocatòria ordinària. 2004.

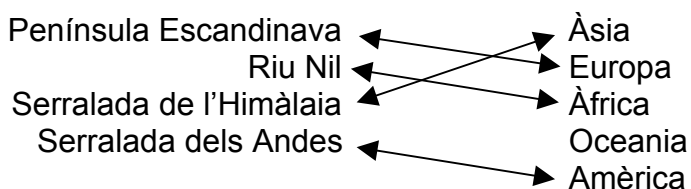
1- Localitza al mapa i relaciona amb fletxes les següents línies imaginàries:



- c) Qualsevol PARAL·LEL : **Qualsevol línia horitzontal que marqui.**
d) Qualsevol MERIDIÀ : **Qualsevol línia vertical que marqui.**

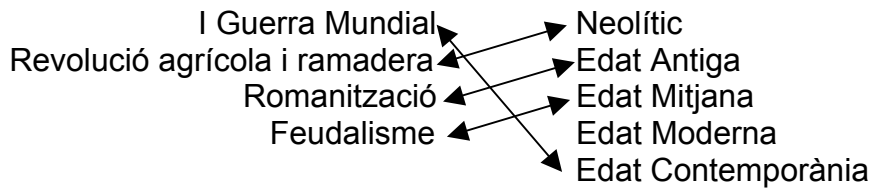
Puntuació: - 1 punt
- 0,25 per cada encert.

2 - Relaciona amb fletxes cada accident geogràfic de la primera llista amb el continent (segona llista), on està situat. (Has de tenir en compte que a la segona columna et sobrarà un continent)



Puntuació: - 1 punt
- 0,25 per cada relació correcta.

3 – Relaciona amb fletxes els fets i/o conceptes històrics de la primera llista amb l'època històrica en la qual van tenir lloc. (Has de tenir en compte que a la segona llista et sobrarà una època)



Puntuació: - 1 punt
- 0,25 per cada encert

4 – De la següent llista assenyala (X) els cinc conceptes i/o fets històrics que pertanyen a la civilització grega.

| | | | |
|---|-----------------------|---|------------------------|
| X | Polis | X | Democràcia |
| | Espectura jeroglífica | X | Atenes |
| X | Acròpolis | | Rius Eufrates i Tigris |
| X | Hel·lenisme | | Cristianisme |
| | | | Catacumbes |

Puntuació: - 1 punt
- 0,20 per cada encert

5 - L'any 1137 (s.XII) es produeix la unió dinàstica que va facilitar la creació de la Corona d'Aragó. Assenyala amb una (X) quins territoris es van unir?

- el regne de València i el comtats catalans
- el regne de Castella i els comtats catalans
- X** **el regne d'Aragó i els comtats catalans**
- el regne de València i el regne d'Aragó

Puntuació: - 1 punt

6 - A continuació tens barrejades algunes de les característiques econòmiques i socials de les èpoques de l'Àntic Règim i de la Revolució Industrial.

Has de completar el quadre següent, col·locant:

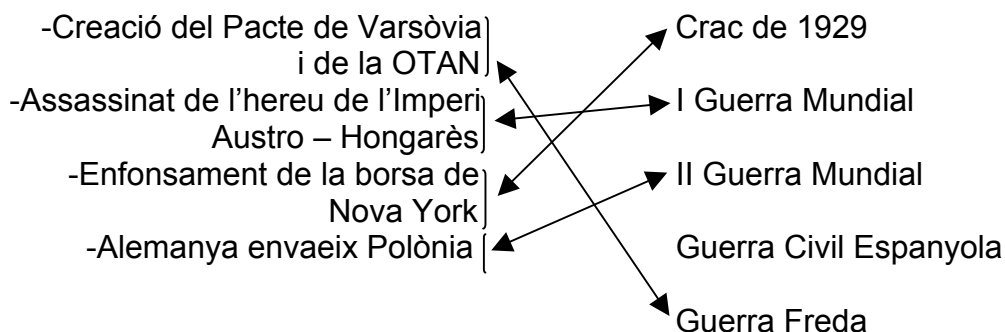
- En la primera columna totes les característiques de l'Àntic Règim
- Per cada característica de l'Àntic Règim posa en la segona columna la que li correspon de la Revolució Industrial.
- Tens col·locat un exemple: **Món rural** - **Món industrial**

Món rural – Fàbrica – Viure al camp – Societat estamental - Mecanització – Viure a la ciutat – Taller artesà – **Món industrial** - Feina manual – Societat de classes socials

| ES PASSA DE: (Àntic Règim) | A: (Revolució Industrial) |
|--------------------------------------|-------------------------------------|
| <i>Món rural</i> | <i>Món industrial</i> |
| Taller artesà | Fàbrica |
| Viure al camp | Viure a la ciutat |
| Societat estamental | Societat de classes socials |
| Feina manual | Mecanització |

Puntuació: - 2 punts
- 0,50 per encert

7 – Relaciona els esdeveniments de la primera columna amb el fet històric en el qual tenen lloc. (Has de tenir en compte que en la segona columna et sobrarà un període històric).



Puntuació: - 2 punts
- 0,50 per encert

8 – De la següent llista, assenjala quatre condicions (X) que caracteritzen els països que pertanyen a la Unió Europea:

- X **Adoptar l'euro com a moneda**
- Tenir la mateixa ideologia política
- X **Desaparició de les fronteres**
- X **Lliure circulació de mercaderies**
- Tots els països han de tenir el mateix govern
- X **Tenir representants en el Parlament Europeu**

Puntuació: - 1 punt
- 0,25 per encert

}